


## Enigme 4

### La plantation de sapins





Un paysagiste doit planter des sapins, selon une organisation bien précise, dans un champ quadrillé :


- Un seul sapin peut être planté dans chaque case.
- Il doit planter des grands sapins et des petits sapins.
- Il plante au maximum 2 sapins dans chaque ligne ou dans chaque colonne.
- Vu de face, un grand sapin peut cacher au moins un petit sapin qui se trouve derrière : on ne voit pas le petit sapin mais seulement le grand.
  - Par exemple, on peut voir :







- Pour disposer les sapins, on lui a fourni :
  - des indications suivantes représentant ce qu'un visiteur verra sur les quatre côtés du terrain.

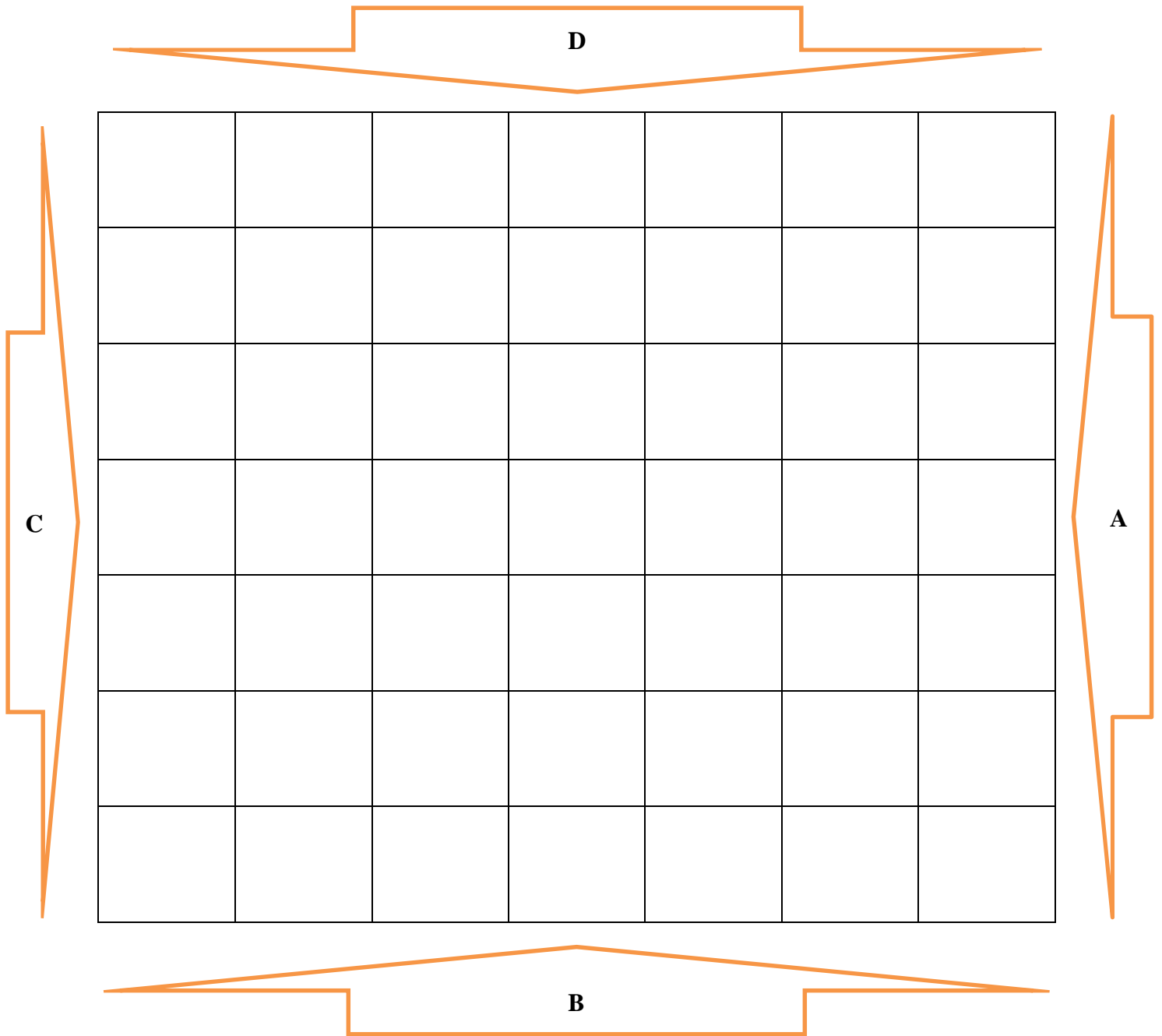
Vue du côté A							
---------------	---	---	--	---	--	---	--

Vue du côté B							
---------------	---	--	---	--	---	--	---

Vue du côté C							
---------------	--	---	--	---	--	---	---

Vue du côté D							
---------------	---	--	---	--	---	--	---

- et un plan du terrain



**Place les sapins où ils doivent être.**

**Une seule solution est possible.**