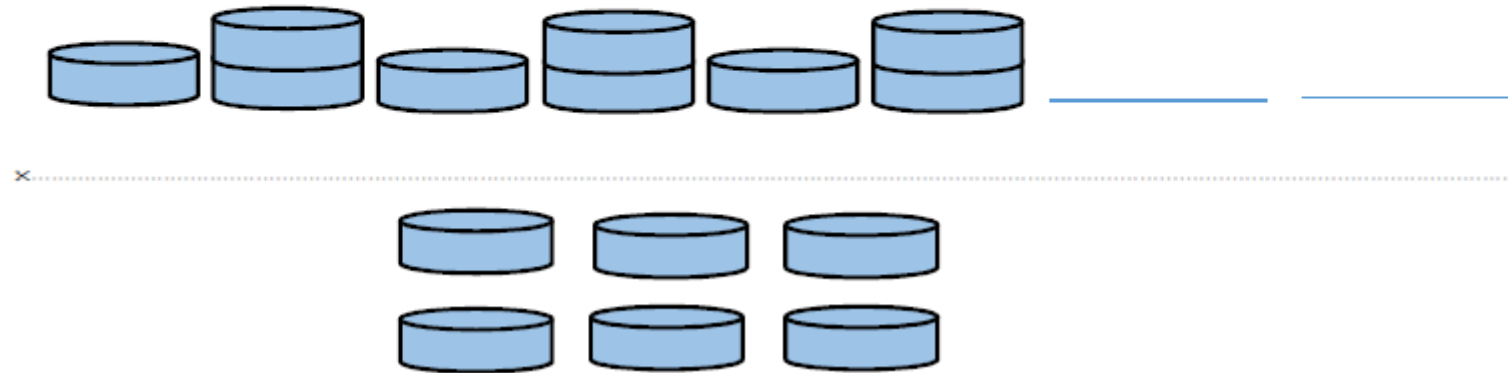


Énigme « les algorithmes » - niveau 1
Semaine des mathématiques 2020
La balade mathématique

Tu dois continuer la suite en collant ce qui convient
sur les 2 places vides.



Énigme « les algorithmes » - niveau 1 bis
Semaine des mathématiques 2020
La balade mathématique

Tu dois continuer la suite en collant ce qui convient sur les 2 places vides.

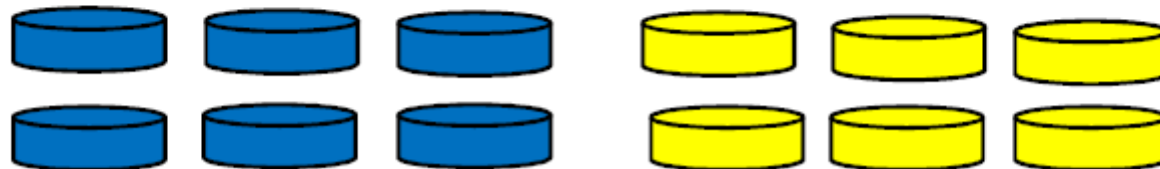


Énigme « les algorithmes » - niveau 2
Semaine des mathématiques 2020
La balade mathématique

Tu dois continuer la suite en collant ce qui convient
sur la place vide.



x.....

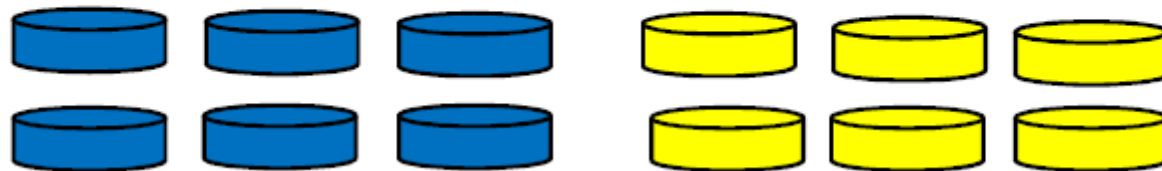


Énigme « les algorithmes » - niveau 3
Semaine des mathématiques 2020
La balade mathématique

Tu dois compléter la suite en collant ce qui convient
sur les 2 places vides.

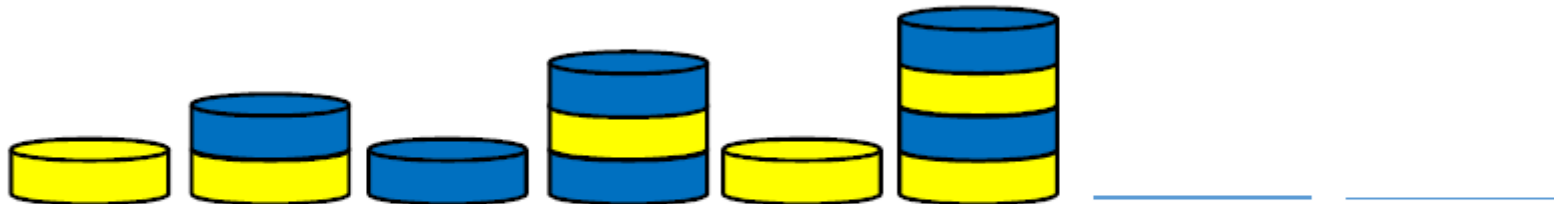


x.....

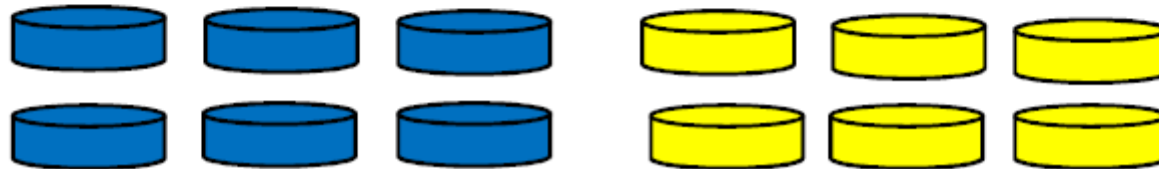


Énigme « les algorithmes » - niveau 4
Semaine des mathématiques 2020
La balade mathématique





























Tu dois continuer la suite en collant ce qui convient
sur les 2 places vides.



x.....



Énigme « les algorithmes » - niveau 5
 Semaine des mathématiques 2020
 La balade mathématique

																			
																			
																			
1	2	3	4	5	6	7	8	9	10	11	12	13	14	15	16	17	18	19	20

Les colonnes 4, 13 et 16 sont identiques ; quelle sera la prochaine ?



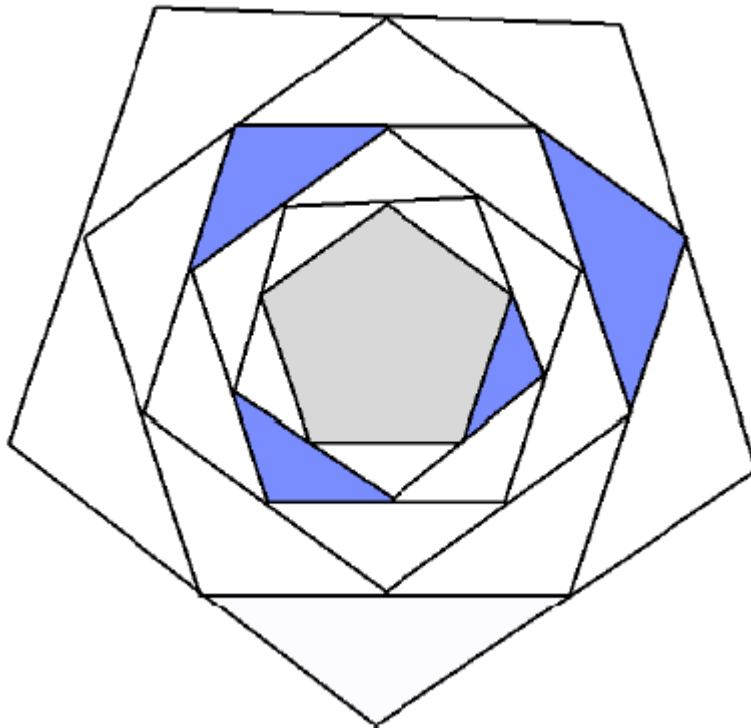
Énigme « les algorithmes » - niveau 6
Semaine des mathématiques 2020
La balade mathématique

1	2	3	4	5	6	7	8	9	10	11	12	13	14	15	16	17	18	19	20
■	■	■	■	■	■	■	■	■	■	■	■	■	■	■	■	■	■	■	■
■	■	■	■	■	■	■	■	■	■	■	■	■	■	■	■	■	■	■	■
■	■	■	■	■	■	■	■	■	■	■	■	■	■	■	■	■	■	■	■

Si tu poursuis cette suite algorithmique tu pourras découvrir la combinaison du coffre de l'oncle Picsou. Il suffit pour cela de trouver les quatre premières colonnes blanches.

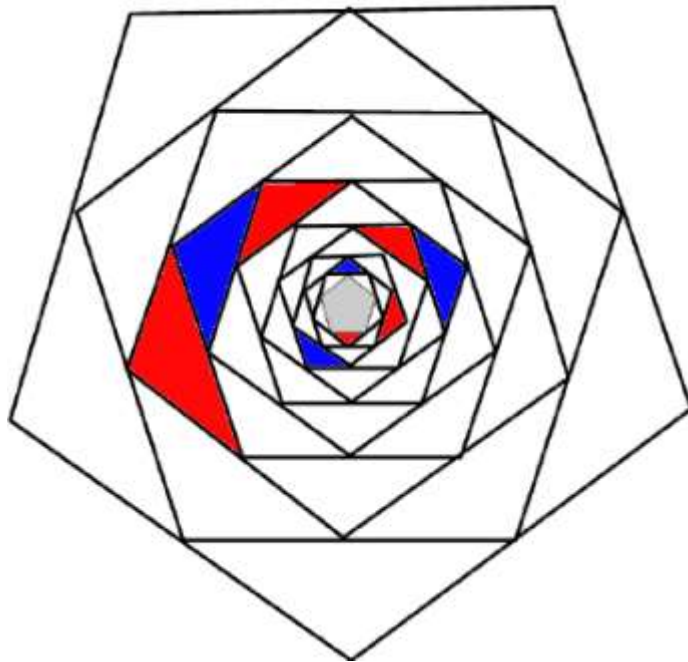
18			
----	--	--	--

Énigme « les algorithmes » - niveau 7
Semaine des mathématiques 2020
La balade mathématique



Pour ouvrir la porte du coffre-fort de l'oncle Picsou, il te faut colorier le dernier pétale de la « rose ». (mais attention, il va te falloir trouver comment elle fonctionne !)

Énigme « les algorithmes » - niveau 8
Semaine des mathématiques 2020
La balade mathématique



Pour ouvrir la porte du
coffre-fort de l'oncle Picsou,
il te faut colorier les deux
pétales de la « rose ».
(mais attention, il va te falloir
trouver comment elle
fonctionne !)